

聖瑪大肋納學校

頁一 2月17日至21日停課期間學生數學科自學工作紙 年級：小一()

姓名：_____ 學號：_____

一、觀看影片，學習「進位加法」。

http://momaths.ephhk.com/learnfromhome/resources/m1b_p7_pflash_1.mp4

二、怎樣計算學生的總數量？

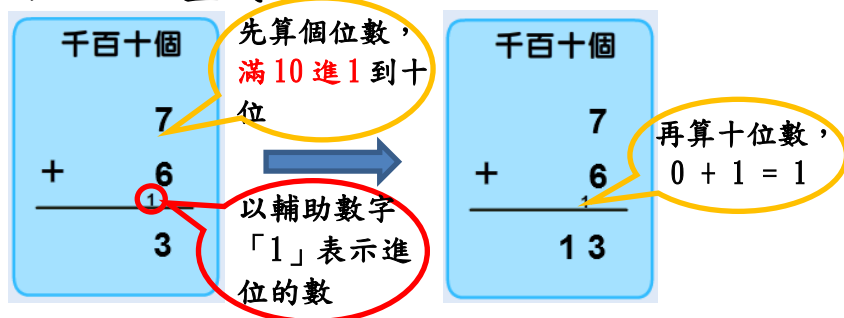


方法一：合十法

$$\begin{aligned}
 &7 + 6 \\
 = &7 + 3 + 3 \\
 = &10 + 3 \\
 = &\underline{\underline{13}}
 \end{aligned}$$

(Note: A callout bubble says '7和3能合十' - 7 and 3 can make 10)

方法二：直式



三、算一算。


1) $8 + 7 = ?$

(a) 方法一：合十法

$$\begin{aligned}
 &8 + 7 \\
 = &8 + \underline{\quad} + \underline{\quad} \\
 = &\underline{\quad} + \underline{\quad} \\
 = &\underline{\quad}
 \end{aligned}$$

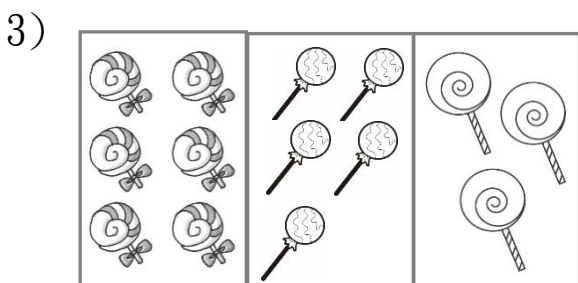
(b) 方法二：直式

$$\begin{array}{r}
 8 \\
 + 7 \\
 \hline
 \square
 \end{array}$$



共有小鳥多少隻？

$$\square + \square = \square$$



共有棒棒糖多少枝？

$$\square + \square + \square = \square$$

