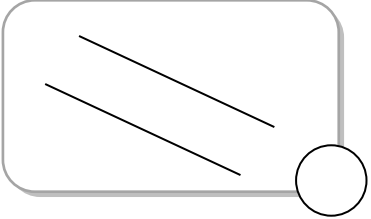
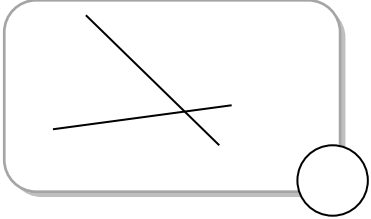
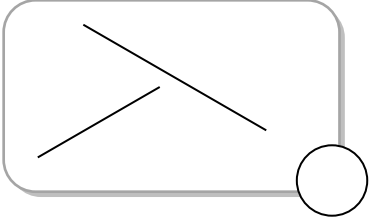

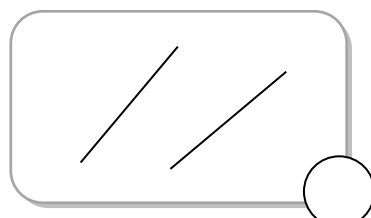




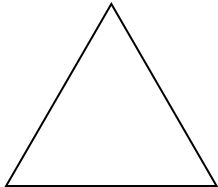

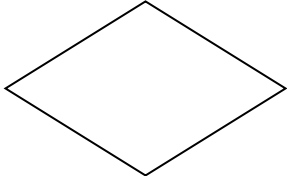
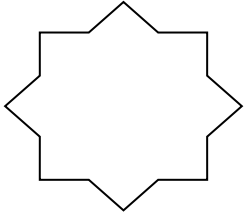
姓名：_____ 學號：_____

一、以下各組直線是不是互相平行？是的，在圓圈內加 \checkmark ；不是的，加 \times 。

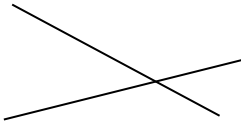
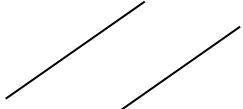
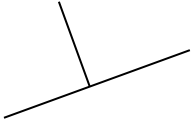
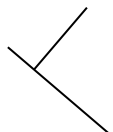
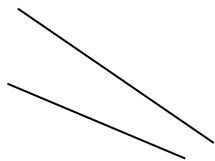
1)  2)  3) 

4)  5)  6) 

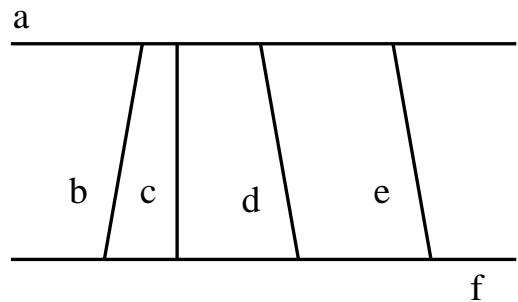
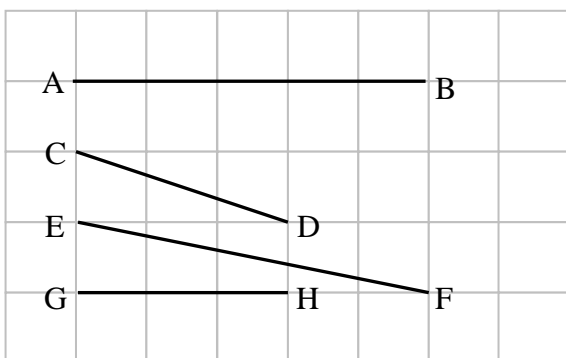
二、把下列有平行線的圖形圈起來。(答案可多於一個)

1)     

三、把互相垂直的線圈起來。(答案可多於一個)

1)     

四、觀察下列圖示，並把適當答案填在_____上。

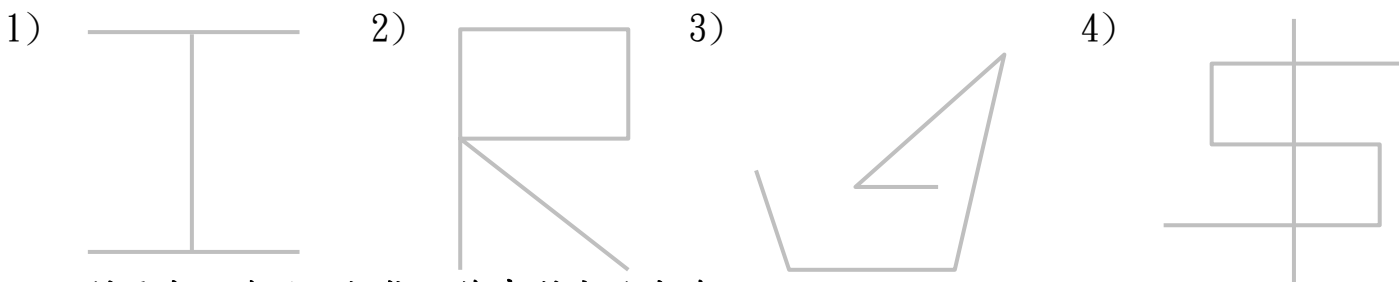


1) 直線 AB 與直線 _____ 互相平行。

2) 直線 _____ 和直線 f 互相平行。

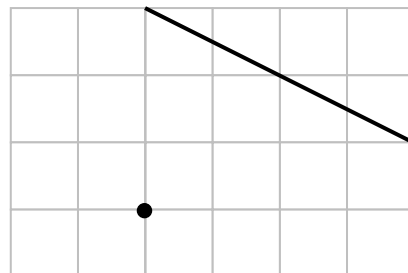
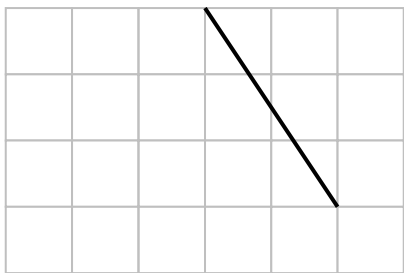

3) 直線 _____ 和直線 e 互相平行。

四、把下列各題中的平行線分別塗相同的顏色。




五、利用直尺協助，按指示繪畫對應的直線。

- 1) 一組平行線。
- 2) 與黑線互相平行。
- 3) 與黑線互相平行且穿過黑點。




六、觀察下面的圖形，把代表答案的字母填在_____上。



- 1) 有平行線，但沒有垂直線的圖形：_____
- 2) 有垂直線，但沒有平行線的圖形：_____
- 3) 既有平行線、也有垂直線的圖形：_____

七、圖形製作：試試看能不能畫出，分別有一組、兩組和三組平行線的圖形。



親愛的同學：
 相信你們已經急不及待地在探求課本的數學知識，為了讓你們更有效進行自學，從下次工作紙開始，課本和習作內容將加入其中，老師亦會從中引同陪伴你們，加油喔！