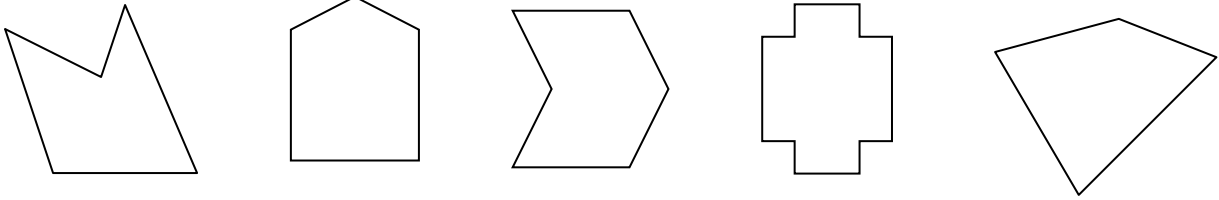



姓名：_____ 學號：_____

一、觀察下列圖片，按指示圈出正確答案。

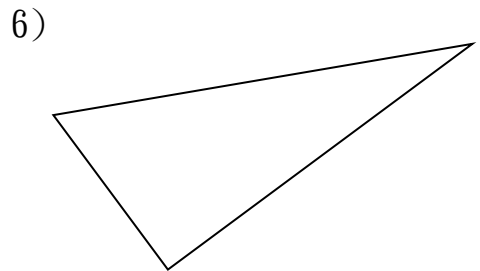
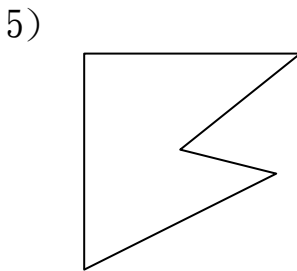
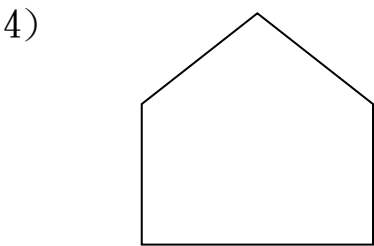

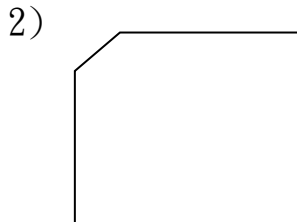
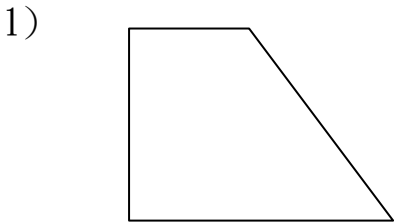
1) 下面哪些圖形有互相垂直的線？把它們圈起來。



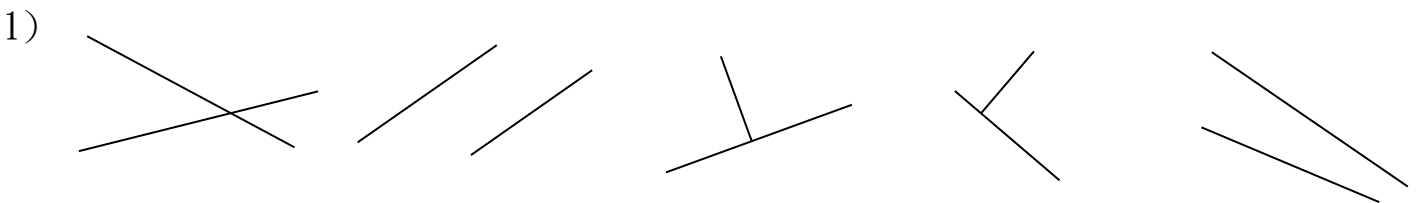
2) 下面哪些圖形沒有互相垂直的線？把它們圈起來。



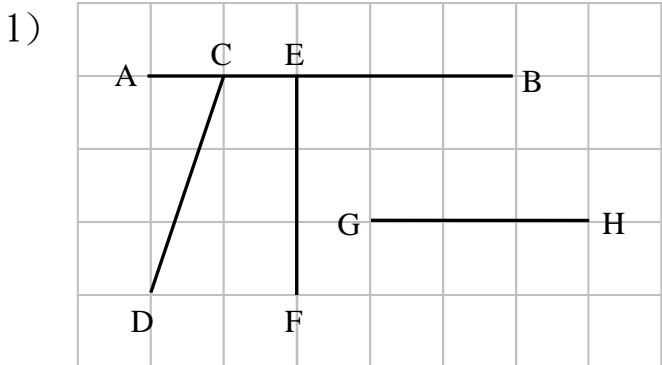
二、把下面各圖形內的直角畫出來。



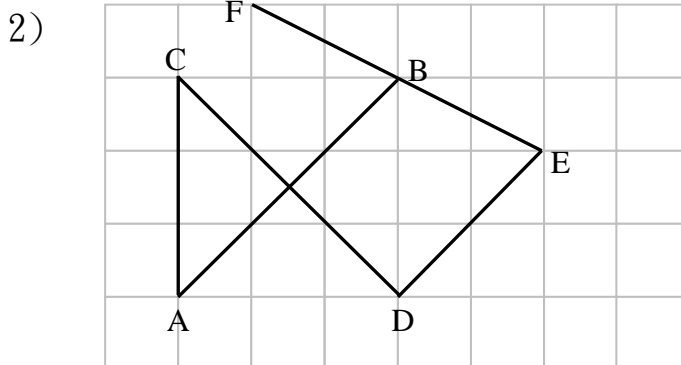
三、把互相垂直的線圈起來。(答案可多於一個)



四、觀察圖中的直線，並把正確答案填在_____上。




直線 AB 與直線 _____ 互相垂直。



直線 AB 與直線 _____ 互相垂直。

五、利用直尺協助，按指示繪畫對應的直線。

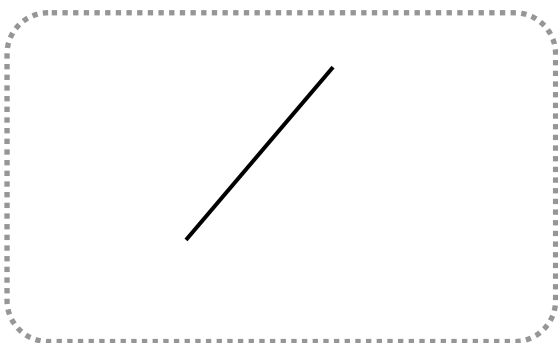
1) 在釘板上畫一組垂直線。



2) 繪畫一條與黑線互相垂直的線。



3) 繪畫一條與黑線互相垂直的線。



4) 畫一組垂直線。



六、趣味聯想：想想看有哪些英文字母，可以找到垂直線？試把它們寫出來。

