

聖瑪大肋納學校

頁一 5月11日停課期間學生數學科自學指引(一) 年級：小一()

書 P. 35 :

依指示，數一數，把物件的數量填在 _____ 上。



每2隻一數，有 16 個2，共有手套 32 隻。




每10個一數，有 3 個10多 3，共有茄子 33 個。

看看下面的數表，依指示，完成下面題目。

31	32	33	34	35	36	37	38	39	40
41	42	43	44	45	46	47	48	49	50
51	52	53	54	55	56	57	58	59	60
61	62	63	64	65	66	67	68	69	70

③ 把每2個一數的結果加○；每5個一數的結果塗藍色。

④ 先估計下面星星的數量，然後選擇以每2、5或10個一數的方法圈一圈。



估計約有星星 50 顆。

我用每 10 個一數的方法來數，共有星星 43 顆。

(或用其他方法數)

作業 P.16


 數一數，填一填。

①



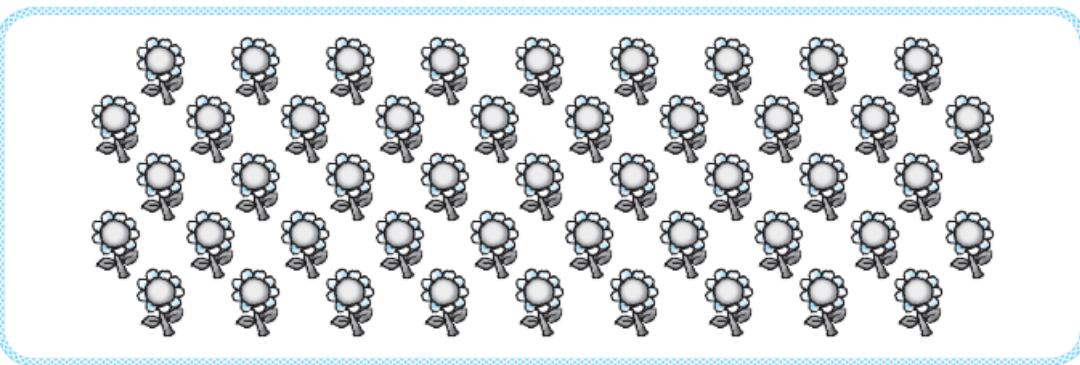
每 2 個一數，有 8 個 2，共有玩具熊 16 隻。

②



每 5 個一數，有 4 個 5 多 1，共有金魚 21 尾。

③



估計約有花 朵。自由作答

我用每 2、5 或 10 個一數的方法來數，共有花 47 朵。



右面的布袋內有一些糖果，用每 5 個一數和每 10 個一數的方法來數都沒有剩餘。如果糖果的數量是少於 40 顆，布袋內可能有糖果 10、20 或 30 顆。



(因布袋內糖果的數量少於 40，
每 5 個一個可以是：5、10、15、20、25、30、35；
每 10 個一數可以是：10、20、30，
而當中的 5、15、25、35 不能用每 10 個一數而沒有剩餘，
所以布袋內可能有糖果 10、20 或 30 顆。)