

姓名：_____ 學號：_____

一、心算題。

1) $4 \times 8 = \underline{32}$	2) $5 \times 9 = \underline{45}$	3) $2 \times 8 = \underline{16}$
4) $8 \times 7 = \underline{56}$	5) $6 \times 7 = \underline{42}$	6) $3 \times 7 = \underline{21}$
7) $9 \times 8 = \underline{72}$	8) $3 \times 10 = \underline{30}$	9) $5 \times 4 = \underline{20}$
10) $4 \times 9 = \underline{36}$	11) $7 \times 4 = \underline{28}$	12) $4 \times 4 = \underline{16}$
13) $6 \times 8 = \underline{48}$	14) $8 \times 8 = \underline{64}$	15) $9 \times 6 = \underline{54}$
16) $2 \times \underline{9} = 18$	17) $7 \times \underline{7} = 49$	18) $\underline{9} \times 9 = 81$

二、依題意，完成下面各題。

1) 用 2、7、1 組成下面指定的三位數。

最大的三位數是 721；最小的三位雙數是 172。

2) 用 4、0、5、0 組成下面指定的四位數。

最大的四位數是 5400；最小的四位單數是 4005。

3) 用 6、1、0、9 組成下面指定的四位數。

最大的四位單數是 9601；最小的四位雙數是 1096。

4) 一小時有 60 分鐘；一分鐘有 60 秒。


三、填上或畫上鐘面上的時間。

1)



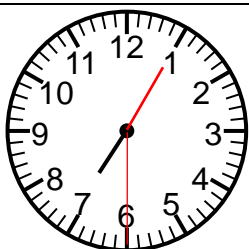
上午 7 時 55 分 1 秒

2)



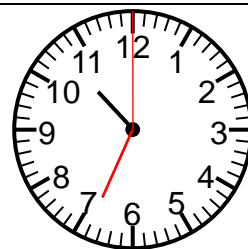
3 時 11 分 54 秒

3)




7 時 5 分 30 秒

4)




10 時 34 分 0 秒

5) 活動開始 活動結束

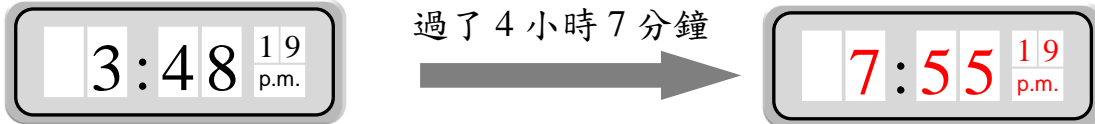


活動用了 3 小時 6 分鐘。

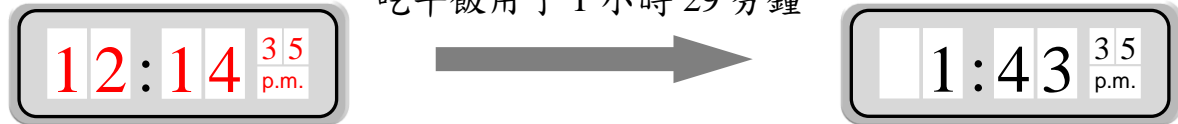


焯陽在領獎禮後的 1 小時 5 分鐘離開運動場。

7) 活動開始 活動結束



8) 活動開始 活動結束 吃午飯用了1小時29分鐘



四、計算下列各題。

1)	$\begin{array}{r} 46 \\ + 18 \\ \hline \boxed{64} \\ + 20 \\ \hline \boxed{84} \end{array}$	2)	$\begin{array}{r} 89 \\ - 25 \\ \hline \boxed{64} \\ - 38 \\ \hline \boxed{26} \end{array}$	3)	$\begin{array}{r} 57 \\ + 35 \\ \hline \boxed{92} \\ - 43 \\ \hline \boxed{49} \end{array}$	4)	$\begin{array}{r} 88 \\ - 49 \\ \hline \boxed{39} \\ + 14 \\ \hline \boxed{53} \end{array}$
----	---	----	---	----	---	----	---

五、應用題：列式解答下面各題。

1) 博物館的小童門票每張售5元，成人門票比小童門票貴15元。爸爸買小童門票和成人門票各一張，共需付多少元？

解： $5 + 5 + 15 = 25(\text{元})$

2) 媽媽有50元，買6盒牛奶，每盒牛奶售8元，共需付多少元？

解： $8 \times 6 = 48(\text{元})$

3) 嘉年華的小童入場費是每位10元，5位小朋友共需付入場費多少元？

解： $10 \times 5 = 50(\text{元})$