

2月3日至7日停課期間 K3 學生自學工作紙--語文

姓名：_____ 班別：_____ 學號：_____

一、姓名練習。(溫馨提示：請家長教授 貴子女以正確筆順寫姓名)

二、請按筆順練習抄寫生字。



丨	冂	巾
---	---	---

巾	巾	巾	巾							
---	---	---	---	--	--	--	--	--	--	--

丿	冂	月	月	用
---	---	---	---	---

用	用	用	用							
---	---	---	---	--	--	--	--	--	--	--

三、請把有「貝」部件的生字填上顏色。



四、連線配詞。

珍	銀	文	捐	儲	幫	錢
行	惜	蓄	款	具	箱	助

Diagram showing word pairings with red lines: 珍 connects to 行, 銀 connects to 蓄, 文 connects to 款, 捐 connects to 助, 儲 connects to 箱, 幫 connects to 蓄, 錢 connects to 助.

五、請把相配的量詞連線。







一隻	一條	一輛	一個	一包	一盒
					

Diagram showing quantity word pairings with red lines: 一隻 connects to 雞, 一條 connects to 繩, 一輛 connects to 車, 一個 connects to 鳳梨, 一包 connects to 餅乾, 一盒 connects to 薯片.

K3 Self-Study Plan for Students During Class Suspension

03/02/2020-07/02/2020

Name: _____ Class: _____ No.: _____

A. Write the capital letters A-Z.

A	B	C	D	E	F	G	H

I	J	K	L	M	N	O	P

Q	R	S	T	U	V	W	X

Y	Z

B. Write the small letters a-d.


a	a	a						


b	b	b						


c	c	c						


d	d	d						


C. Listen and colour the beginning sounds that match the pictures.


		
z	d	a

		
k	j	z


		
l	k	d

		
l	j	w

		
l	z	f


		
d	h	z

D. Circle the correct words.

	two	three	five
---	-----	-------	------

	ten	six	nine
---	-----	-----	------

7	eight	one	seven
----------	-------	-----	-------

	four	three	five
---	------	-------	------

2月3日至7日停課期間 K3 學生自學工作紙--識數(1)

姓名：_____ 班別：_____ 學號：_____

一、請由 1 至 10 順寫數字。

1	2	3	4	5	6	7	8	9	10
---	---	---	---	---	---	---	---	---	----

二、計算題：請把正確數字填在□內。

1. $7 + 2 = \boxed{9}$ 2. $4 + 3 = \boxed{7}$


3. $3 + 3 = \boxed{6}$ 4. $1 + 4 = \boxed{5}$

5. $6 + 4 = \boxed{10}$ 6. $8 + 0 = \boxed{8}$


三、請把單數的杯子填上藍色，雙數的填上黃色。



四、排列：請圈出正確的答案。






五、請按照數字1-60 順序連線。



2月3日至7日停課期間 K3 學生自學工作紙--識數(2)

姓名：_____ 班別：_____ 學號：_____

一、數一數：請圈出正確的答案。

								
2	5	9	13	15	17	21	26	29

二、請比較下列數值大小，並按示排列。

1. 由大至小

1, 4, 9

9 → 4 → 1 →

3, 5, 7, 10

10 → 7 → 5 → 3 →

2. 由小至大




20, 11, 17

11 → 17 → 20 →













16, 12, 14, 18

12 → 14 → 16 → 18 →


三、請按數字把正確數量圈出來。

9	
18	
23	

四、請填上前後數。

<p>1.   </p>	<p>2.   </p>
<p>3.   </p>	<p>4.   </p>




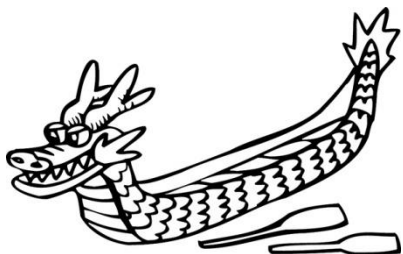
五、找不同：請在右圖上圈出與左圖五個不相同的地方。







2月3日至7日停課期間 K3 學生自學工作紙—常識

姓名：_____ 班別：_____ 學號：_____


一、請把與農曆新年相關的填上顏色。



二、請判斷以下哪些是保持衛生的方法，若正確的請填上✓，錯誤的請填上✗。



三、請觀察下列圖片，按購物的程序在圈內填上 1, 2, 3, 4。



四、請把下列的錢幣和相配的圖片用線連起來。

